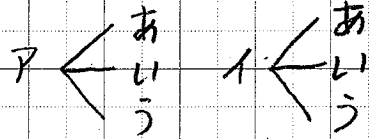
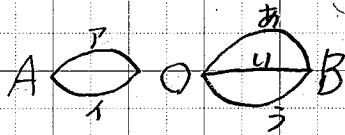


5月7日(木) 算数しよう ④ P20

ゴールデンウィークが終わったので、再開します。「まじ」を「かじ」に

① 道に名前をつけよう。



の 6通り

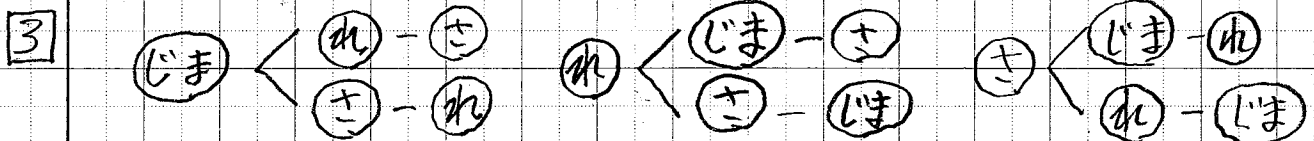
② ① 0を千の位にはできません。小さい順に順序よく書く。

- 1023    (1032)    1203    (1230)    (1302)    (1320)  
 2013    2031    2103    (2130)    (2310)    2301  
 (3012)    3021    (3102)    (3120)    3201    (3210)

の 18通り

② -の位が0または2を選ぶ。○印のついた 10通り

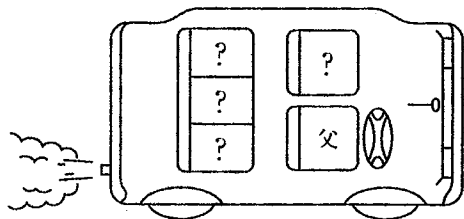
- 1032, 1230, 1302, 1320, 2130, 2310, 3012, 3102, 3120, 3210



(まじ)のときも同じ数のならまじがあるので  $6 \times 2 = 12$  12通り

### 補充問題

1 お父さん、お母さん、みおさん、妹、弟の5人で、5人乗りの自動車に乗ります。お父さんは運転席に座ります。席の座り方は、全部で何通りあるでしょうか。



2 6種類のアイスクリームが売られています。この中から4種類のアイスクリームを買います。何通りの組み合わせがあるでしょうか。

☆ 次はいよいよ分数のかけ算、わり算をやってみよう。

☆ アイテムもしてください。 (1.24) (2.15)