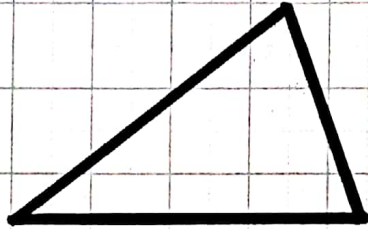


まとめをノートにかこう。

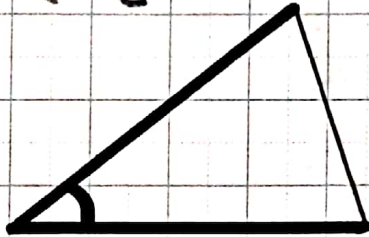
P26

⑤ 合同な三角形は、次のアイウのどれか一つがわかればかくことができる。

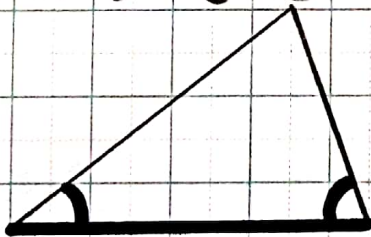
① 3つの辺の長さ (ななみのやり方)



② 2つの辺の長さとその間の角の大きさ (だいきのやり方)



③ 1つの辺の長さとその両はしの角の大きさ (ゆいのやり方)



アイウのかき方で、ノートにP23の三角形と合同な三角形をかいてみよう。

宿題プリント①②をやってみよう。

ラインズeライブラリもあもしろいので、ぜひチャレンジしてみよう。

5/11のふうとうにID・パスワードが入っています。

がんばったね! おつかれさま♡